

F.B

الصفحة

1
5



الامتحان الوطني الموحد للبكالوريا
الدورة الاستدراكية 2011
الموضوع

المملكة المغربية



وزارة التربية الوطنية
والتعليم العالي
والتكوين المهني
والمسحبة العلمية
والمركز الوطني للتقويم والامتحانات

6	المعامل	RS52	الاقتصاد العام والإحصاء	المادة
3	مدة الإجتياز	شعبة العلوم الاقتصادية والتدبير : مسلك العلوم الاقتصادية		الشعب (ة) أو الممثل

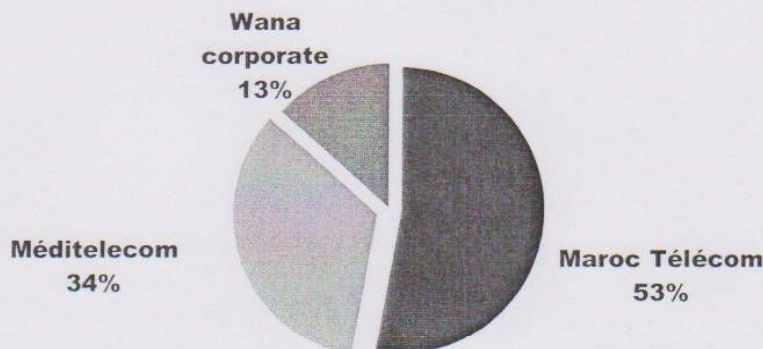
* L'utilisation de la machine à calculer non programmable est autorisée.
* 0,5 point de la note sur 20 est réservé à la présentation de la copie (évités les ratures et les surcharges et mentionnez le numéro du dossier puis celui de la question)

Dossier 1 : Marchés et conjoncture économique nationale

DOCUMENT 1 Maroc Telecom, Wana et Meditel : qui aura le dernier mot ?

La publication prochaine des chiffres de Maroc Telecom pour le troisième trimestre de l'année 2010, lèveront le voile sur l'état des lieux de la concurrence sur le marché du mobile au Maroc. Cette concurrence, très rude ces derniers mois, a rapporté aux trois opérateurs marocains plus de 95 400 nouveaux clients. En effet, Wana dépasse pour la première fois le seuil des 10% du marché. L'Agence Nationale de la Réglementation des Télécommunications (ANRT) vise à stimuler la baisse des prix des communications afin de réduire leur impact sur les ménages et les entreprises.

Parts de marché du mobile à fin décembre 2010 en %



Source : L'Economiste du 03.02.2011 et Le Matin du Sahara 04.11.2010

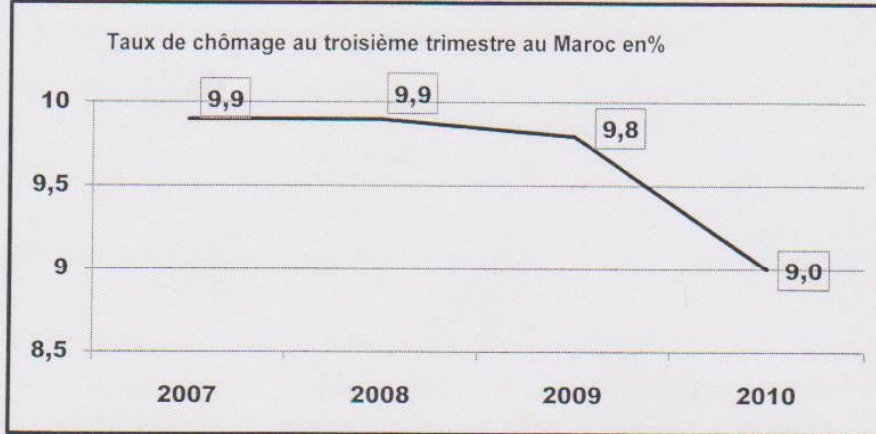
DOCUMENT 2

Le marché monétaire reste en sous-liquidité aux trois premiers trimestres de l'année 2010. **Les interventions instantanées (avances) de Bank Al Maghrib (BAM) ont pu dissiper, quelque peu, les tensions sur ce marché.** Le taux d'intérêt interbancaire (3,28%) s'est situé légèrement au dessus du taux directeur de BAM, maintenu à 3,25% au deuxième trimestre. Le marché bancaire subit encore les conséquences de plusieurs facteurs restrictifs de liquidité, en l'occurrence le déficit de la balance commerciale et la baisse des investissements directs étrangers (IDE). La masse monétaire pourrait légèrement s'améliorer, à partir du quatrième trimestre 2010, en raison, d'une part, de l'emprunt international contracté récemment par le trésor public et d'autre part, de la cession de 40% du capital de Méditel à un opérateur étranger (France Telecom). Les taux interbancaires pourraient, ainsi, évoluer à des niveaux proches du taux directeur.

Source : HCP ; Point de Conjoncture ; Octobre 2010

DOCUMENT 3

Une équation à laquelle les responsables n'arrivent pas à trouver une solution adéquate : d'un côté, un nombre de diplômés chômeurs important et de l'autre, des postes de travail dans le privé mais qui ne trouvent pas preneurs. Les chefs d'entreprises ne ratent pas une occasion pour souligner le manque de profils et de compétences sur le marché. En cause, les filières enseignées ou encore leur contenu jugé en totale inadéquation avec la demande des entreprises. Ce qui renvoie à la refonte de l'enseignement qui piétine faute de visibilité. A défaut et aussi en attendant que la «sauce» prenne, des formations sont assurées par les entreprises elles-mêmes ou via les programmes offerts par l'Etat par l'intermédiaire de l'Agence Nationale de Promotion de l'Emploi et des Compétences (ANAPEC).



Source : l'Economiste du 10.02. 2011, et site du Haut Commissariat au Plan

TRAVAIL A FAIRE

(6 pts)

1	Caractériser les marchés, objet des documents 1, 2 et 3 en reproduisant et en complétant le tableau ci-dessous.	<table border="1"> <thead> <tr> <th></th> <th>Type de marché selon l'objet</th> <th>Offreurs</th> <th>Demandeurs</th> </tr> </thead> <tbody> <tr> <td>Document 1</td> <td></td> <td></td> <td></td> </tr> <tr> <td>Document 2</td> <td></td> <td></td> <td></td> </tr> <tr> <td>Document 4</td> <td></td> <td></td> <td></td> </tr> </tbody> </table>		Type de marché selon l'objet	Offreurs	Demandeurs	Document 1				Document 2				Document 4				1,5 pt
	Type de marché selon l'objet		Offreurs	Demandeurs															
Document 1																			
Document 2																			
Document 4																			
2	a- Interprétez le graphe du document 1, b- En déduisez le régime du marché de la téléphonie mobile au Maroc. Justifiez	0,5 pt 0,5 pt																	
3	A partir du document 2 : a- Relevez deux causes de sous- liquidité du marché monétaire au Maroc ; b- Indiquez l'impact de la cession du capital de Méditelecom sur la masse monétaire; c- Relevez deux instruments de la politique monétaire au Maroc ; d- Expliquez la phrase soulignée en gras .	0,25 pt 0,5 pt 0,5 pt 0,5 pt																	
4	A partir du document 3 : a- Identifiez le dysfonctionnement relatif au marché, objet du document ; b- Relevez la cause de ce dysfonctionnement .	0,75 pt 1 pt																	

Dossier 2 : Croissance et développement

DOCUMENT 4 « Choisir l'austérité, c'est se tromper de politique! »

La loi des finances 2011 sera conçue dans une conjoncture pour le moins difficile. Pour Mr Habib EL Malki, le plus grand défi est celui de maintenir les mesures destinées à soutenir la croissance.

***L'Economiste Magazine : Quels sont selon vous les grands défis de la loi des finances 2011?**

* **Habib El Malki** : « Le principal défi qui me semble important dans la conjoncture actuelle est celui qui consiste à cibler la croissance dans un contexte international plein d'incertitudes. Le CMC(*) table sur un taux de croissance de 4,5% pour 2011, contre 2,8% pour 2010. Dans ce sens, il convient d'éviter toute politique budgétaire restrictive qui risquerait d'avoir des effets de freinage sur la croissance... »

***L'Economiste Magazine : Quelles sont les chantiers sur lesquels il faut avancer de manière concrète en 2011?**

* **Habib El Malki** : « Je retiendrais trois orientations (qui sont celles de la loi des finances 2011). La première c'est le soutien au secteur privé (en difficulté), tels que l'automobile et le textile. Mais il faut aller au-delà du soutien conjoncturel. Il faut une stratégie globale de mise à niveau du secteur privé, pour qu'il devienne un acteur fondamental dans la croissance. La deuxième, c'est la poursuite de l'investissement public, pour que les grands chantiers, d'infrastructure en particulier, ne connaissent aucun retard. La troisième c'est la consolidation de la cohésion sociale, à travers la garantie du pouvoir d'achat, de telle sorte que la demande intérieure puisse continuer à jouer un rôle moteur dans la croissance. »

*** L'Economiste Magazine : Comment financer tout cela?**

* **Habib El Malki** : « Il existe actuellement une marge non négligeable qui permet au Maroc de recourir aux financements externes (l'emprunt international), à condition que ces ressources soient affectées à des fins productives sur la base d'un contrôle conséquent. D'ailleurs, le taux d'endettement extérieur du Maroc est inférieur à 20% du PIB. »

(*)CMC : Centre Marocain de Conjoncture.

Source : l'Economiste Magazine ; N°27 - octobre 2010

DOCUMENT 5 Extrait des dépenses de l'Etat en 2011

Dépenses du Budget général de l'État (en millions de DH)	Montants
Dépenses de fonctionnement	151 994
Dépenses de la dette (y compris les amortissements de la dette à long et moyen terme)	36 534
Dépenses d'investissement	53 858

Source : Bulletin Officiel N°5904 bis, du 30.12.2010

DOCUMENT 6

La caisse de compensation devrait absorber quelque 30 milliards de dirhams cette année. Ce chiffre, équivaut à 5% du PIB marocain selon le Centre Marocain de Conjoncture (CMC). Ce dernier estime que la caisse a atteint ses limites en pénalisant le budget de l'Etat sans pour autant atteindre sa cible : les plus démunis. Pourtant, le budget 2011 prévoit de maintenir les subventions à hauteur de 3% du PIB national. Le CMC conseille de suivre l'exemple du Mexique où, en 2007, un ciblage des populations pauvres a permis de recenser 25 millions de bénéficiaires des aides de l'État. En contrepartie, l'État mexicain exige la scolarisation des enfants. Cette mesure a permis de réduire de moitié le taux de pauvreté dans le pays pour un coût estimé à peine 0,5% du PIB. Une réforme de la caisse de compensation marocaine, qui devrait trancher dans l'arbitrage entre compensation et développement et la mise en place d'un « système plus efficace pour améliorer les indicateurs du développement humain », devrait être prête au courant 2012.

Source : www.bladi.net ; le 12.10.2010

DOCUMENT 7

L'indice de développement humain (IDH) au Maroc

Le Maroc affiche des résultats insuffisants au niveau de toutes les composantes de « l'indice de développement humain (IDH) ». Mais ce qui lui fait le plus défaut, ce sont les indicateurs de l'éducation et de l'enseignement. A fin 2005, il affiche un taux d'alphabétisation des adultes à 52% et un niveau de scolarisation combiné (primaire, secondaire, universitaire) de 58%.

(...). Si nous n'avions pas atteint une espérance de vie à la naissance de 70,4 ans et un PIB par habitant de 4 555 dollars, notre classement aurait été bien pire.

Côté enseignement, les indicateurs ne risquent pas de s'améliorer pour les deux dernières années. Plusieurs opérateurs du secteur révèlent une aggravation des déficits en infrastructures et en ressources humaines ainsi qu'une dégradation des conditions d'enseignement, notamment dans le monde rural.

En classant le Maroc parmi les mauvais élèves en termes de développement humain, les experts du PNUD(*) ont remarqué les inégalités flagrantes entre riches et pauvres. Cinquante ans après l'Indépendance, les signes de pauvreté et de précarité sont toujours aussi marquants dès que l'on quitte le centre des grandes villes marocaines. Des centaines de solutions (INDH et les autres « plans de développement social ») ont été avancées pour garantir le minimum vital en termes de qualité de vie pour les plus démunis.

(*)Programme des Nations Unies pour le Développement

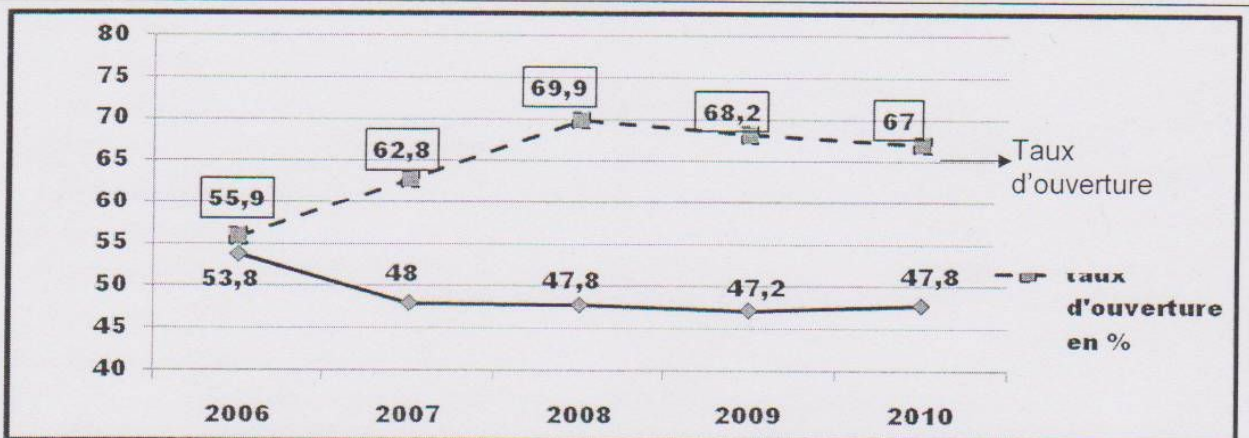
Source : L'Economiste du 18.02.2011

DOCUMENT 8 Les composantes du produit intérieur brut du Maroc (en milliards de DH courants)

Années (xi)	2006	2007	2008	2009
Consommation finale	439,1	472,2	518,5	551,7
Formation brute du capital fixe	162,5	192,6	227,4	226,1
Variations des stocks	7,4	7,6	35,1	38,8
Exportations de biens et services (yi)	197,4	220,3	258,1	210,4
Importations de biens et services	229,0	276,4	350,4	290,7
Produit intérieur brut	577,4	616,3	688,7	...?...

Source : Rapport Bank AL Maghrib – Exercice 2009

DOCUMENT 9 Evolution du taux d'ouverture et du taux de couverture en %



Source : Office des Changes- 2010

DOCUMENT 10 Les accords signés par le Maroc profitent pour l'instant à ses partenaires

Le Maroc a signé plusieurs accords de libre-échange ces dernières années (avec l'Union Européenne, Etats-Unis, Pays arabes...). Et à l'issue de la conclusion de chacune de ces conventions, on n'arrête pas de communiquer sur ses bienfaits et sur les multiples opportunités qu'elles ouvrieraient pour les entreprises et pour l'économie marocaines. Mais, il suffit de voir l'évolution des échanges commerciaux avec ses partenaires, quelques années après l'entrée en vigueur de ces accords, pour se rendre compte que les résultats ne sont pas encore à la hauteur des espoirs. Si on prend l'exemple de l'accord avec l'Union – Européenne (U.E.) signé en 1996 et entré en vigueur en 2000, on constate que le déficit de la balance commerciale avec ce partenaire s'est aggravé. Alors qu'il était de 23,3 milliards de DH en 2004, il est passé à 65,6 milliards en 2009. Et à l'approche du démantèlement douanier total prévu pour 2012, on voit mal comment on pourrait inverser la tendance, eu égard à la performance des industries européennes.

En effet, l'augmentation remarquable des importations du Maroc de ces produits européens a été favorisée par la forte demande qui émanait d'un développement important de l'économie locale, notamment les secteurs du BTP, du tourisme et de l'industrie manufacturière.

A l'inverse, nos exportations vers l'UE ont dégringolé(*), passant de 90,3 milliards de DH en 2007 à 73,4 milliards en 2009. En outre, une grande partie de ces exportations est composée de produits primaires et de faible valeur ajoutée.

(*) Dégringolé : chuté.

Les échanges avec L'UE sous le régime préférentiel () en milliards de DH.**

Années	2007	2008	2009
Importations	54,96	65,81	66,03
Exportations	8,31	12,02	7,83
Solde commercial	- 46,65	-53,79	- 58,20
Taux de couverture	15,12	18,26	11,86%

Source : la Vie Economique du 22.10.2010

(**) Echanges bénéficiant des privilèges d'entrée à l'Union Européenne (UE) (droits de douane bas, ou libre- accès au marché pour des quotas déterminés, etc.).

TRAVAIL A FAIRE

(13,5 pts)

5	<p>A partir du document 4 :</p> <p>a- Expliquez la phrase soulignée ;</p> <p>b- Reproduisez et complétez le tableau ci-dessous :</p> <table border="1" style="width: 100%;"> <tr> <td></td> <td>Economiques (deux éléments)</td> <td>Sociales (deux éléments)</td> </tr> <tr> <td>Orientations préconisées par Mr El Malki</td> <td></td> <td></td> </tr> </table>		Economiques (deux éléments)	Sociales (deux éléments)	Orientations préconisées par Mr El Malki			<p>0,5 pt 1 pt</p>				
	Economiques (deux éléments)	Sociales (deux éléments)										
Orientations préconisées par Mr El Malki												
6	<p>A partir du document 5 :</p> <p>a- Calculez la structure en % des dépenses du Budget Général de l'Etat 2011.</p> <p>b- Commentez cette structure.</p>	<p>0,5 pt 1 pt</p>										
7	<p>Sur la base des documents 6 et 7 :</p> <p>a- Relevez les composantes de l'indicateur du développement humain ;</p> <p>b- Expliquez le bas classement du Maroc en terme de développement humain ;</p> <p>c- Dégagez et expliquez le rôle de la compensation au :</p> <p style="text-align: center;">c₁- Mexique ; c₂- Maroc.</p>	<p>0,25 pt 0,25 pt 0,5 pt</p>										
8	<p>A partir du document 8 :</p> <p>a- Calculez le PIB de 2009 ;</p> <p>b- Déterminez l'équation de la droite d'ajustement de la forme $y=a x+b$, selon la méthode des moindres carrés, sachant que : x_i = Années, y_i = Exportations de biens et services, avec :</p> <p style="text-align: center;">$\sum x_i y_i = 2253,9$; $\sum x_i^2 = 30$</p> <p>NB : - Utilisez la formule développée ;</p> <p>c- Estimez à partir de l'équation obtenue, la valeur des exportations pour 2011 ;</p> <p>d- Interprétez le solde extérieur de biens et services au Maroc de 2006 à 2009 (tableau ci-dessous) :</p> <table border="1" style="width: 100%;"> <tr> <td>Années</td> <td>2006</td> <td>2007</td> <td>2008</td> <td>2009</td> </tr> <tr> <td>Solde extérieur de biens et services en milliards de dh</td> <td>-31,6</td> <td>-56,1</td> <td>-92,3</td> <td>-80,3</td> </tr> </table>	Années	2006	2007	2008	2009	Solde extérieur de biens et services en milliards de dh	-31,6	-56,1	-92,3	-80,3	<p>0,75 pt 1,25 pt 0,25 pt 0,5 pt</p>
Années	2006	2007	2008	2009								
Solde extérieur de biens et services en milliards de dh	-31,6	-56,1	-92,3	-80,3								
9	Interprétez le graphe objet du document 9.	1 pt										
10	<p>A partir du document 10 :</p> <p>a. Lisez la donnée soulignée du tableau.</p> <p>b. Appréciez les échanges commerciaux entre le Maroc et l'Union Européenne.</p>	<p>0,75 pt 1,5 pt</p>										
11	<p>Synthèse :</p> <p>Caractérissez la situation du commerce extérieur marocain et dégagez les solutions envisagées par l'Etat pour soutenir la croissance économique et faire face au creusement de son déficit commercial. (Exploitez les documents 8 ,9 et 10 ainsi que vos connaissances acquises)</p> <p>NB :</p> <table border="1" style="width: 100%;"> <tr> <td>Eléments de la synthèse</td> <td>Barème</td> </tr> <tr> <td>Introduction</td> <td>0,75 pt</td> </tr> <tr> <td>Développement</td> <td>2,25 pt</td> </tr> <tr> <td>Conclusion</td> <td>0,5 pt</td> </tr> </table>	Eléments de la synthèse	Barème	Introduction	0,75 pt	Développement	2,25 pt	Conclusion	0,5 pt	3,5 pts		
Eléments de la synthèse	Barème											
Introduction	0,75 pt											
Développement	2,25 pt											
Conclusion	0,5 pt											